




MINISTÉRIO DA EDUCAÇÃO  
SECRETARIA DE EDUCAÇÃO PROFISSIONAL E TECNOLÓGICA  
INSTITUTO FEDERAL DE EDUCAÇÃO, CIÊNCIA E TECNOLOGIA MINAS GERAIS  
CAMPUS SANTA LUZIA

**EDITAL 144/2014**  
**CONCURSO PÚBLICO DE PROVAS E TÍTULOS**

**PROVA ESCRITA DE CONHECIMENTOS ESPECÍFICOS**

**Data: 07/12/2014**

**CARGO/ÁREA: 816 / Arquitetura, conteúdos afins e projetos - Tecnologias,  
Representação Gráfica e Projeto Arquitetônico - Santa Luzia**



**Só abra quando autorizado.**

**Duração da Prova: 04:00 horas improrrogáveis**

**A PROVA DEVERÁ SER RESOLVIDA À TINTA AZUL OU PRETA**




MINISTÉRIO DA EDUCAÇÃO  
SECRETARIA DE EDUCAÇÃO PROFISSIONAL E TECNOLÓGICA  
INSTITUTO FEDERAL DE EDUCAÇÃO, CIÊNCIA E TECNOLOGIA MINAS GERAIS  
CAMPUS SANTA LUZIA

**EDITAL 144/2014**  
**CONCURSO PÚBLICO DE PROVAS E TÍTULOS**

**PROVA ESCRITA DE CONHECIMENTOS ESPECÍFICOS**

**Data: 07/12/2014**

**CARGO/ÁREA: 816 / Arquitetura, conteúdos afins e projetos - Tecnologias,  
Representação Gráfica e Projeto Arquitetônico - Santa Luzia**



**Nome do candidato:**

--	--	--	--	--	--	--	--	--	--	--	--	--	--	--	--	--	--	--	--

--	--	--	--	--	--	--	--	--	--	--	--	--	--	--	--	--	--	--	--

**Nº de inscrição:**

--	--	--	--	--	--	--	--	--	--	--	--	--	--	--	--	--	--	--	--

**RG**

--	--	--	--	--	--	--	--	--	--	--	--	--	--	--	--	--	--	--	--

**CPF**

--	--	--	--	--	--	--	--	--	--	--	--	--	--	--	--	--	--	--	--

**Assinatura:** \_\_\_\_\_



**MINISTÉRIO DA EDUCAÇÃO  
INSTITUTO FEDERAL DE EDUCAÇÃO, CIÊNCIA E TECNOLOGIA MINAS GERAIS  
CAMPUS SANTA LUZIA**

**CARGO: Professor de Ensino Básico, Técnico e Tecnológico**

**ÁREA: Arquitetura, conteúdos afins e projetos - Tecnologias,  
Representação Gráfica e Projeto Arquitetônico**

**DATA: 07 de dezembro de 2014**

**Número de questões: 5 / Número de páginas: 10**

**Instruções:**

- Todas as questões devem ser resolvidas apenas com caneta esferográfica azul ou preta;
- As quatro últimas folhas desta prova serão destinadas a rascunho, não poderão ser destacadas e não serão corrigidas em hipótese alguma;
- Utilize apenas as linhas pautadas e espaços reservados para a resposta de cada questão;
- Confira se a prova contém 5 (cinco) questões e possui 10 (dez) páginas. Caso esteja faltando alguma página solicite a substituição do caderno de provas ao fiscal.

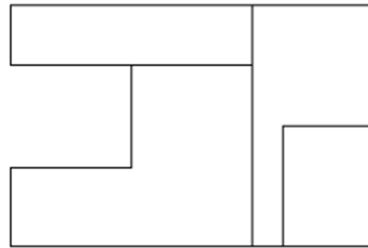
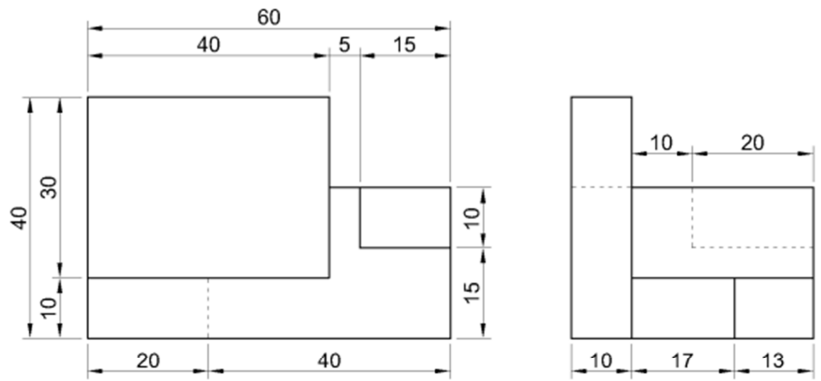








**QUESTÃO 5** – Dadas as três vistas ortogonais representadas no 1º diedro, identifique-as e faça no espaço abaixo a perspectiva isométrica do sólido representado por elas, indicando as cotas. As medidas fornecidas estão em mm, utilizar escala 1/1.



Lined area for writing, featuring horizontal lines and a large diagonal watermark reading "RASCUNHO".



Lined area for writing, containing a large diagonal watermark reading "RASCUNHO".

Blank lined area for writing, overlaid with a large, diagonal watermark reading "RASCUNHO".

RASCUNHO